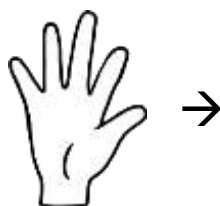

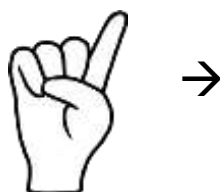




# ΣΥΓΚΡΙΣΗ ΚΑΙ ΕΚΤΙΜΗΣΗ ΠΟΣΟΤΗΤΩΝ (1-5)

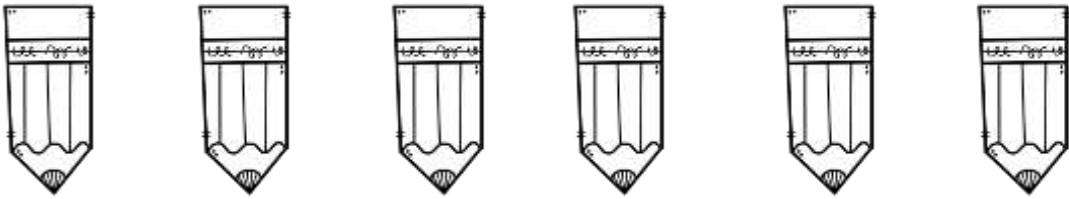
Κάνε τόσες γραμμές όσες σου δείχνουν τα δαχτυλάκια.



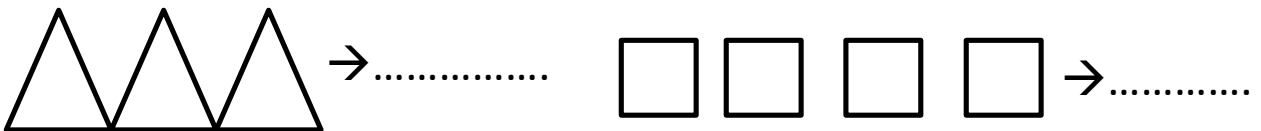
Είναι τόσα κεράκια όσες είναι και οι πάστες; Ένωσε.



Κάνε το ίδιο με τα μολύβια και τις γόμες.



Μέτρησε και γράψε τον αριθμό.



Συμπλήρωσε την αριθμογραμμή.

